

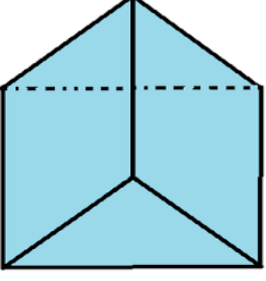
ADI:
SOYADI:
SINIFI:
NO:

2.SINIF ETKİNLİKLERİ

GEOMETRİK CİSİMLER



ÜÇGEN PRİZMA

www.etkinlikkaravani.com



1. Üçgen prizma 5 şeklin birleşmesinden oluşur.
2. Bu şekillerin ikisi üçgen üç tanesi dikdörtgendir.
3. Üçgen prizmanın 6 köşesi vardır.

Aşağıdaki şekillerin hangileri üçgen prizmaya benziyor?
İşaretleyiniz.



Aşağıdaki boşlukları uygun kelimelerle dolduralım.

1. Üçgen prizmanın köşesi vardır.
2. Üçgen prizmanın yüzeyi vardır.
3. Üçgen prizma üçgenden, dikdörtgenden oluşur.
4. Üçgen prizma şeklin birleşmesiyle oluşur.

Aşağıdaki cümleleri okuyup doğru olanların yanına "D" yanlış olanların yanına "Y" yazınız.

- () 1. Üçgen prizma altı adet geometrik cisimden oluşur.
- () 2. Üçgen prizmanın iki yüzü üçgendir.
- () 3. Üçgen prizmanın dört yüzü karedir.
- () 4. Üçgen prizmanın 8 köşesi vardır.