


ADI:
SOYADI:
SINIFI:
NO:

2.SINIF ETKİNLİKLERİ

GEOMETRİK CİSİMLER



KARE PRİZMA

www.etkinlikkaravani.com



1. Kare prizmanın altı yüzü vardır.
2. Altı yüzün ikisi birbirine eş karedir.
3. 4 yüzü ise birbirine eş dikdörtgendir.
4. Kareler karşılıklı yüzlerdedir.
5. Sekiz köşesi vardır.

Aşağıdaki şekillerin hangileri kare prizmaya benziyor ?
İşaretleyiniz.



Aşağıdaki boşlukları uygun kelimelerle dolduralım.

1. Kare prizmanın yüzü vardır.
2. Kare prizmanın yüzü birbirine eş dikdörtgenlerdir.
3. Kare prizmanın köşesi vardır.
4. Kare prizmanın kenarı vardır.
5. Kare prizmanın yüzü birbirine eş karelerdir.

Aşağıdaki cümleleri okuyup doğru olanların yanına "D" yanlış olanların yanına "Y" yazınız.

- () 1. Kare prizmanın 12 yüzü vardır.
- () 2. Kare prizmanın 4 yüzü birbirine eş karelerdir.
- () 3. Kare prizmanın 2 yüzü birbirine eş karelerdir.
- () 4. Kare prizmanın 8 köşesi vardır.