


ADI:
SOYADI:
SINIFI:
NO:

2.SINIF ETKİNLİKLERİ



GEOMETRİYE GİRİŞ DİKDÖRTGEN

www.etkinlikkaravani.com




-Benim **dört kenarım**,
ve **dört köşem** var.
-İki uzun kenarım aynı
uzunluktadır.
-İki kısa kenarım aynı
uzunluktadır.

Aşağıdaki şekillerin hangileri bana benziyor ? İşaretleyiniz.



Aşağıdaki noktaları birleştirerek dikdörtgenler yapalım.



Aşağıdaki şekilde kaç tane dikdörtgen olduğunu bulunuz. Dikdörtgenleri farklı renklere boyayınız.

