

ADI:

SOYADI:

SINIFI:

NO:




3.SINIF FEN BİLİMLERİ

5. ÜNİTE

ÇEVREMİZDEKİ VARLIKLARI TANIYALIM-2

www.etkinlikkaravani.com

Aşağıdaki resimlerdeki varlıkları canlı mı cansız mı olduklarını altlarına yazınız.



Aşağıdaki cümlelerde doğru olan cümlenin başına "D" , yanlış olan cümlenin başına "Y" yazınız.

- () Tüm canlılar yumurtlayarak çoğalırlar.
- () Canlıların yaşaması için su ve besine ihtiyaçları vardır.
- () Taş , toprak , su cansız varlıklardır.
- () Tepki verme canlıların ortak özelliklerinden değildir.
- () Bir tohumun ağaç haline gelmesi canlıların ortak özelliklerinden büyüme ile ilgilidir..

Aşağıda verilen canlıların ortak özelliklerini örneklerle açıklayınız.

Beslenme:

Tepki Verme: