


ADI:
SOYADI:
SINIFI:
NO:

2.SINIF ETKİNLİKLERİ
GEOMETRİYE GİRİŞ
ÇEMBER



www.etkinlikkaravani.com

Merhaba!!!
Ben ÇEMBER




-Benim köşem ve kenarım yoktur.
-İçim boştur.

Aşağıdaki şekillerin hangileri bana benziyor ? İşaretleyiniz.



Aşağıdaki noktaları birleştirerek çemberler yapalım.



Aşağıdaki şekilde kaç tane çember olduğunu bulunuz. Daha sonra şekli farklı renklerle kullanarak boyayınız.

