


ADI:  
SOYADI:  
SINIFI:  
NO:

## 2.SINIF ETKİNLİKLERİ


### GEOMETRİYE GİRİŞ-ÜÇGEN

[www.etkinlikkaravani.com](http://www.etkinlikkaravani.com)




- Benim üç kenarım , ve üç köşem var.
- Çizgilerim kenar , noktalarım köşedir.

Aşağıdaki levhaların hangileri bana benziyor ? İşaretleyiniz.



Aşağıdaki noktaları birleştirerek üçgenler yapalım.



Aşağıdaki şekilde kaç tane üçgen olduğunu bulunuz. Üçgenleri farklı renklere boyayınız.

