

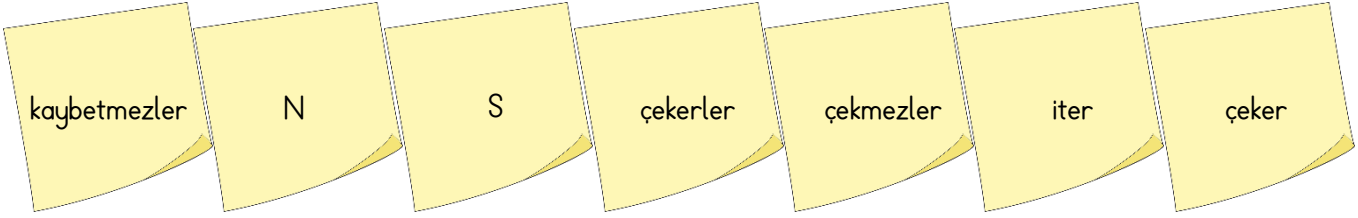
ADI:
SOYADI:
SINIFI:
NO:

4.SINIF FEN BİLİMLERİ

3. Ünite Mıknatıslar

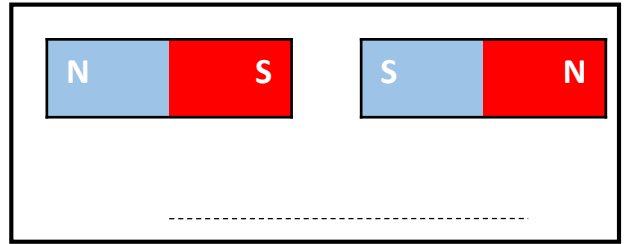
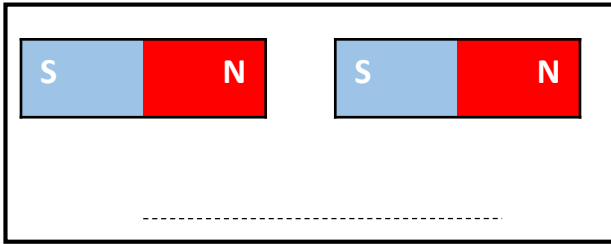
www.etkinlikkaravani.com

Cümlelerdeki boşluklara uygun kelimeleri getirelim.



1. Mıknatıslar kuzey kutbu ve güney kutbu olarak adlandırılırlar.
2. Mıknatıslar yapısında demir çelik ve nikel olan cisimleri
3. Mıknatıslar plastik cisimleri
4. Mıknatıslar kırıldığında mıknatıslık özelliğini
5. Mıknatıslarda aynı kutuplar birbirini zıt kutuplar ise birbirini

Aşağıdaki mıknatısların birbirini çekme veya itme durumlarını altlarına yazalım.



Aşağıdaki mıknatıs cisimlerden hangilerini çeker işaretleyiniz.

