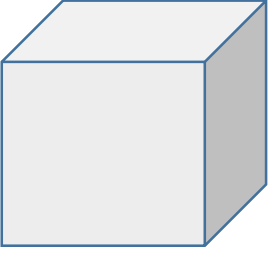


ADI:
SOYADI:
SINIFI:
NO:

2.SINIF ETKİNLİKLERİ




GEOMETRİK CİSİMLER-KÜP

www.etkinlikkaravani.com



1. Küp 6 tane birbirine eş kareden oluşur.
2. Küpün 8 tane köşesi vardır.
3. 6 yüzü vardır.

Aşağıdaki şekillerin hangileri küpe benziyor ? İşaretleyiniz.



Aşağıdaki boşlukları uygun kelimelerle dolduralım.

1. Küp birbirine eş'den oluşur
2. Küpün yüzü vardır.
3. Küpün köşesi vardır.
4. Küpün kenarı vardır.
5. Küpün bütün yüzleri birbirine'tir.

Aşağıdaki cümleleri okuyup doğru olanların yanına "D" yanlış olanların yanına "Y" yazınız.

- () 1. Küpün sadece alt yüzü ile üst yüzü birbirine eştir.
- () 2. Küpler birbirine eş dairelerden oluşur.
- () 3. Küpün sekiz köşesi vardır.
- () 4. Küpün 12 kenarı vardır.