

ADI:

SOYADI:

SINIFI:

NO:











### 3.SINIF ETKİNLİKLERİ

Veri İşleme

Grafikler ve Tablolar-1

[www.etkinlikkaravani.com](http://www.etkinlikkaravani.com)

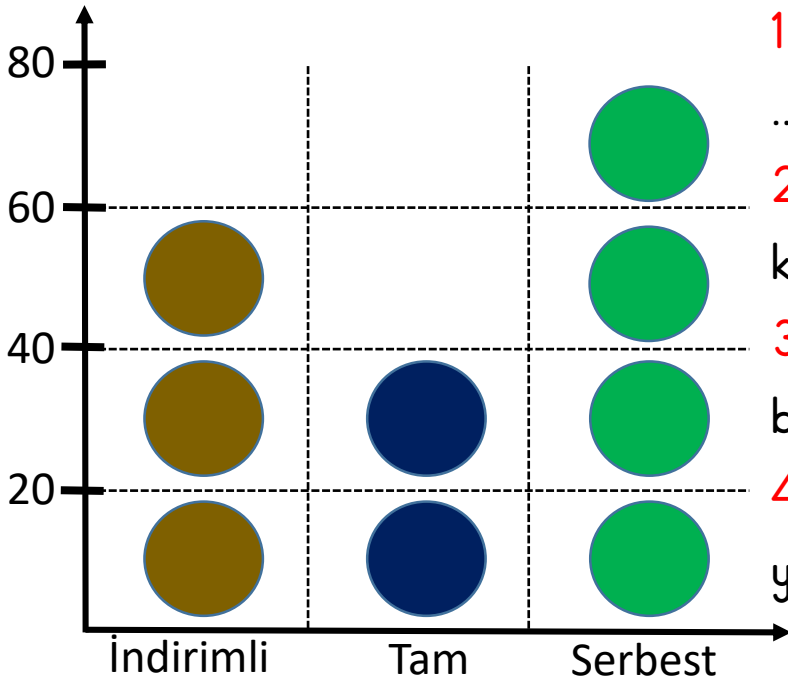
**Soru 1:** Bir okuldaki öğrencilerin ilgilendikleri spor dalları grafikte gösterilmiştir. Grafığe göre aşağıdaki boşlukları doldurunuz.

| İLGİLENDİKLERİ SPORLAR | KİŞİ SAYISI   |   |   |   |   |
|------------------------|---|---|---|---|---|
| Tenis                  |  |  |  |   |   |
| Futbol                 |  |  |  |  |  |
| Basketbol              |  |  |   |   |   |

Not: Her şekil 20 öğrenciyi temsil etmektedir.

- Okulda ..... öğrenci vardır.
- Basketbolla ilgilenen öğrenci sayısı .....'dır.
- Tenisle ilgilenen öğrenci sayısı basketbolla ilgilenenlerden ..... fazladır.
- Futbol ve basketbolla ilgilenenler okulun mevcudundan ..... eksiktir.

**Soru 2:** Aşağıdaki grafikte bir otobüse binen kişileri ve hangi kartı kullandıklarını göstermektedir. Grafığe göre yandaki boşlukları doldurunuz.



- Otobüse binenlerden .....'i tam kart kullanmıştır.
- ..... kişi serbest kart kullanmıştır.
- İndirimli binenler tam binenlerden ..... fazladır.
- Tam binenler tüm yolculardan ..... eksiktir.

Not: Her şekil 20 kişiyi temsil etmektedir.