

ADI:

SOYADI:

SINIFI:


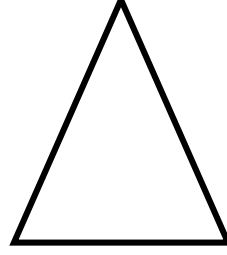

NO:

3.SINIF ETKİNLİKLERİ



Simetri Etkinliği-1

www.etkinlikkaravani.com

Aşağıdaki şekillerin simetri doğrularını çiziniz.



Aşağıdaki şekillerin simetri doğrusunu çekip boyayınız.



Aşağıdaki ifadeleri okuyunuz Doğru ise "D" yanlış ise "Y" koyunuz.

- () Karenin 4 tane simetri doğrusu vardır.
- () Üçgenin üç tane simetri doğrusu vardır.
- () Dairenin sınırsız simetri doğrusu vardır.
- () Dikdörtgenin iki tane simetri doğrusu vardır.

Aşağıdaki boyalı alanların simetrilerini boyayınız.

